










PLAN DE TRAVAIL CE2

JEUDI 28 MAI

RITUELS	<ul style="list-style-type: none">❖ Compte de 2 en 2 à partir de 101 jusqu'à 121 ❖ <u>Ecrivain</u> : Continue la phrase : <i>Ecris une seule phrase avec les mots : forêt, chemin, sac à dos</i>
FRANCAIS	<ul style="list-style-type: none">• Lecture :<ul style="list-style-type: none">➤ ex sur fiche • Orthographe : Copie 3 fois chaque mot pour la dictée de demain <i>le tambour – le camion – le pompier – aussi – le plafond – les framboises – une ampoule - tomber</i>
MATHS	<ul style="list-style-type: none">• Problèmes:<ul style="list-style-type: none">➤ ex sur fiche

FRANÇAIS

Lis les textes et inscris le numéro correspondant à chaque image dans le cadre.

 <input style="width: 40px; height: 20px;" type="text"/>	 <input style="width: 40px; height: 20px;" type="text"/>	 <input style="width: 40px; height: 20px;" type="text"/>
 <input style="width: 40px; height: 20px;" type="text"/>	 <input style="width: 40px; height: 20px;" type="text"/>	 <input style="width: 40px; height: 20px;" type="text"/>
 <input style="width: 40px; height: 20px;" type="text"/>	 <input style="width: 40px; height: 20px;" type="text"/>	 <input style="width: 40px; height: 20px;" type="text"/>
<p>① Seul le chat regarde à gauche. Le cactus lui pique la queue.</p>	<p>② Tous regardent à droite. Seul le garçon peut voir le cactus.</p>	<p>③ La fille et le garçon se font face mais le chat qui regarde à droite ne peut pas les voir.</p>
<p>④ Seuls le garçon et le chat regardent à gauche mais le cactus les sépare.</p>	<p>⑤ Le chat et le garçon se font face mais ils ne peuvent se voir à cause du cactus. Le chat regarde dans la même direction que la fille.</p>	<p>⑥ Ils regardent tous à gauche. Le cactus est entre les deux enfants.</p>
<p>⑦ Le garçon est le seul à regarder à droite. La fille et lui peuvent voir le cactus.</p>	<p>⑧ Le chat fait face aux deux enfants qui sont séparés par un cactus.</p>	<p>⑨ Aucun ne regarde à droite, sauf la fille qui tourne le dos au cactus.</p>

MATHEMATIQUES



La boite à énigmes ★

1



A – Combien d'argent y a-t-il dans la poche ?

B – Il a payé un livre avec 50€. Dans sa poche, c'est la monnaie qui reste. Combien a coûté le livre ?



La boite à énigmes ★

4



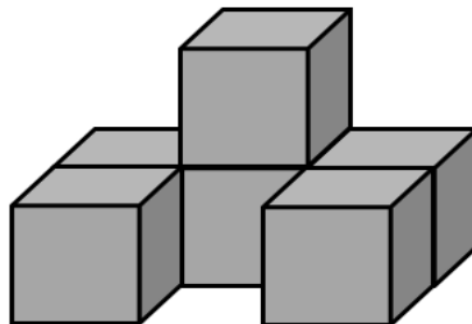
A – Si je coupe les tomates en deux, combien j'aurai de morceaux de tomates ?

B – Si je coupe les tomates en quatre, combien j'aurai de morceaux de tomates ?



La boite à énigmes ★

3



A - Combien y a-t-il de cubes ?

B- Combien faut-il de cubes pour faire un bloc de trois cubes de long, deux cubes de large et deux cubes de hauteur ?