

PLAN DE TRAVAIL CE2

VENDREDI 15 MAI

RITUELS	<ul style="list-style-type: none">❖ <u>Nombre du jour</u>: 893❖ <u>Ecrivain</u> : <p><i>Ecris 5 mots qui commencent par la lettre M :</i> -...</p>
FRANCAIS	<ul style="list-style-type: none">• <u>Lecture</u> : lire et comprendre<ul style="list-style-type: none">➤ fiche• <u>Orthographe</u> : jour de la dictée ! - Dicter les phrases suivantes à votre enfant : <p><i>Le réveil sonne, vite je m'habille.</i> <i>Le soleil brille. La petite grenouille sautille sur les cailloux.</i> <i>La chenille se réveille, sort de son cocon et se transforme en un beau papillon violet.</i></p>
MATHS	<ul style="list-style-type: none">• <u>Revoir les tables multiplication</u><ul style="list-style-type: none">➤ exercice en ligne pour s'entraîner :<p>https://www.logicieleducatif.fr/math/calcul/tablesmultiplication.php</p>• <u>mesure</u>: ex sur fiche
ANGLAIS	<ul style="list-style-type: none">• Les jours de la semaine : <p>https://youtu.be/mXMofxtDPUQ</p>

FRANÇAIS

Lire et comprendre

Quand Carole s'est levée, sa mère lui a dit qu'elle devrait mettre son imperméable pour aller à l'école.

Où doit aller Carole ? (__ /2)

.....

Quel temps fait-il ? (__ /2)

.....

Bertrand posa son livre et remonta sa couverture. Quand il éteignit la lampe, on ne vit plus rien.

Comment s'appelle le garçon ? (__ /2)

.....

Où se passe cette scène ? (__ /2)

.....

- Connais-tu la réponse ? dit Monsieur Payet.
- Oui, monsieur.
- Viens au tableau.
Lucas se leva, prit une craie et écrivit sa réponse en rouge.

Combien de personnages parlent ? (__ /2)

.....

Où se passe cette scène ? (__ /2)

.....

Madame Masson dit à Jérôme et à sa sœur Aurore qu'elle n'avait plus de pain à cette heure tardive.

Comment s'appelle le frère d'Aurore ? (__ /2)

.....

Quel est le métier de Madame Masson ? (__ /2)

.....

Après s'être changé dans les vestiaires, Éric marcha lentement le long du bassin pour ne pas glisser et s'avança vers le plongeur.

Pourquoi Éric marche-t-il lentement ? (__ /2)

.....



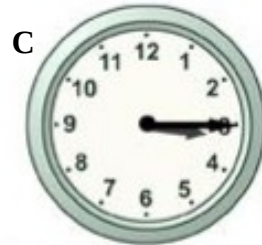
Où est-il ? (__ /2)

.....

Mathématiques

Fiche

Quelle heure est-il ?



Problème :

Le cours de voile de Lisa a commencé à 9h30. Il dure 45 minutes. A quelle heure le cours se terminera-t-il ?.....