

PLAN DE TRAVAIL CE2

JEUDI 7 MAI





RITUELS	<ul style="list-style-type: none">❖ <u>Fleur des nombres</u> : 16 645❖ <u>Ecrivain</u> : <p><i>Ecris 5 mots qui commencent par la lettre F :</i> -...</p>
FRANCAIS	<ul style="list-style-type: none">• Histoire à écouter attentivement (<i>elle est en 2 chapitres</i>) « la chèvre de Monsieur Seguin »• + questionnaire à remplir ensuite➤ https://player.acast.com/des-histoires-en-musique-d-elodie-fondacci/episodes/la-chevre-de-monsieur-seguin-chapitre-1➤ https://player.acast.com/des-histoires-en-musique-d-elodie-fondacci/episodes/la-chevre-de-monsieur-seguin-chapitre-2• <u>Orthographe : jour de la dictée !</u> Dicter les phrases suivantes à votre enfant : <i>Aujourd'hui, dans la montagne, je suis la petite chèvre la plus heureuse. Mais tout à coup, je tombe d'un pic et j'ai mal partout.</i>
MATHS	<ul style="list-style-type: none">• Fiche problème : lecture de tableaux

FRANÇAIS

Histoire à écouter : « La chèvre de Monsieur Seguin »

1/ Retrouve l'ordre des lettres afin de reconstituer l'histoire.

2/ Ecris une phrase sous chaque image.



Mathématiques

Fiche

① Pour bien gérer son argent de poche, Charlotte a construit un tableau:

	janvier	février	mars	avril
Argent reçu	10 €	12 €	10 €	25 €
Argent dépensé	3 €	15 €	5 €	17 €

Combien d'argent Charlotte a-t-elle reçu en 4 mois?

.....

Combien d'argent Charlotte a-t-elle dépensé en 4 mois?

.....

Quel mois Charlotte a-t-elle dépensé plus d'argent qu'elle n'en a reçu?

.....

② Observe le tableau ci-dessous. Il représente le nombre d'enfants de l'école Jules Verne mangeant à la cantine. Remplis les cases vides. Tu peux effectuer tes calculs sous le tableau.

Classes	LUNDI	MARDI	JEUDI	VENDRE DI	TOTAL
CP	7	9	10	9	
CE1	13	11	9	13	46
CE2	6	7	6	8	
CM1	14	14	13	16	57
CM2	10	11	9	12	
TOTAL	50		47		