

PLAN DE TRAVAIL CP





LUNDI 25 MAI - CORRECTION

grammaire

exercice :









Entoure les articles qui conviennent.

			
un	<input checked="" type="checkbox"/> un	<input checked="" type="checkbox"/> un	un
le	<input checked="" type="checkbox"/> le	le	le
<input checked="" type="checkbox"/> l'	l' chat	<input checked="" type="checkbox"/> l' ours	l' botte
la	la	la	<input checked="" type="checkbox"/> la
<input checked="" type="checkbox"/> une	une	une	<input checked="" type="checkbox"/> une



Ecris l'article qui convient : un ou une

<input checked="" type="checkbox"/> un livre 	<input checked="" type="checkbox"/> une guitare 	<input checked="" type="checkbox"/> une tasse 
<input checked="" type="checkbox"/> un pain 	<input checked="" type="checkbox"/> une pomme 	<input checked="" type="checkbox"/> un oiseau 

Mathématiques

Numération

Ecris en lettres

65 : soixante-cinq

94 : quatre-vingt-quatorze

78 : soixante-dix-huit

86 : quatre-vingt-six

57 : cinquante-sept

Devinettes

Je suis plus grand que 80 mais plus petit que 90. Mon chiffre des unités est le nombre de doigts que j'ai sur une main. Qui suis-je ? **85**

Pour me trouver, tu dois ajouter 4 dizaines à 56 puis enlever 2 unités. Qui suis-je ? **94**

Mon chiffre des dizaines correspond au nombre de nains dans Blanche-Neige. Mon chiffre des unités est compris entre 5 et 9. Il faut seulement deux mots pour m'écrire. Qui suis-je ? **76**

Opérations

Handwritten addition problems on grid paper:

$$\begin{array}{r} 65 \\ + 31 \\ \hline 96 \end{array}$$
$$\begin{array}{r} 48 \\ + 41 \\ \hline 89 \end{array}$$
$$\begin{array}{r} 64 \\ + 33 \\ \hline 97 \end{array}$$
$$\begin{array}{r} 47 \\ + 21 \\ \hline 68 \end{array}$$