




PLAN DE TRAVAIL CE1



JEUDI 28 MAI- **CORRECTION**






FRANÇAIS



1   Barre les mots inutiles et colorie sur le dessin, les éléments de la liste.




une soule	une planche
une cabane	une balle
un arbre	une plume
un garçon	un casque
une télé	une fenêtre
des feuilles	une table
une chosette	un tronc



2   Entoure les erreurs et corrige-les en changeant une seule lettre .

 Il donne une banane au <u>linge</u> .	SINGE
 Mon vélo a deux <u>boues</u> .	ROUES
 Le roi habite dans un <u>chameau</u> .	CHATEAU
 Je déballe mon <u>radeau</u> de Noël.	CADEAU
 J'adore jouer aux <u>tartes</u> .	CARTES

3   Barre les intrus.

 légumes	carotte	fraise	poireau	courgette
	poine	potiron	poivron	aubergine
 bricoleur	scie	marteau	assiette	tournevis
	rabot	clé	pince	tarte
 pour écrire une phrase	mots	lettres	phrases	virgules
	triangles	points	majuscules	bottes

MATHEMATIQUES

Observe comment on compte les carreaux de chocolat :



$$4 + 4 = 8$$

2 lignes de 4
carreaux :

$$2 \times 4 = 8$$

A ton tour ! Complète :



$$4.. + 4.. + 4.. = 12..$$

3.. lignes de 4..
carreaux :

$$3.. \times 4.. = 12..$$



$$6.. + 6.. + 6.. + 6.. = 24$$

4.. lignes de 6.. carreaux : $4.. \times 6.. = 24$