




PLAN DE TRAVAIL CE1

JEUDI 7 MAI - **CORRECTION**

FRANCAIS

Ordre de l'histoire :
A - F - C - B - D - E



MATHS - Fiche

1



J'utilise le document pour chercher, puis je réponds.

restaurant de la plage

Menu

	Salade 7€
	Poisson 12€
	Poulet 10€
	Frites 3€
	Glace 4€
	Tarte 5€



Voici la commande de Lola.

1 salade, 1 poisson, 1 tarte

♥ Combien va payer Lola ?

$$7 + 12 + 5 = 24$$

♣ Elle va payer 24 €.



Voici la commande de Bilal.

1 poulet, 1 frite, 1 glace

♥ Combien va payer Bilal ?

$$10 + 3 + 4 = 17$$

♣ Bilal va payer 17 €.

2

Lot de fleurs		prix
	Marguerite	3 €
	Jonquille	4 €
	Rose	10 €
	Tulipe	5 €



Voici la commande de Mamie.

2 marguerites et 2 tulipes

♥ Combien va payer Mamie ?

$$3 + 3 + 5 + 5 = 16$$

♣ Elle va payer 16 €.



Voici la commande de papa.

3 roses et 1 jonquille

♥ Combien papa va-t-il payer ?

$$10 + 10 + 10 + 4 = 34$$

♣ Il va payer 34 €.