

PLAN DE TRAVAIL CE2

VENDREDI 17 AVRIL

RITUELS	<ul style="list-style-type: none">❖ <u>Nombre du jour</u> : 15 594❖ <u>Ecrivain</u> : <i>Pendant ces vacances, j'ai envie de ...et de ...</i>
FRANCAIS	<ul style="list-style-type: none">• Lecture de devinettes Lecture de devinettes (n'oublie pas de souligner ou copier les mots indices du texte qui t'ont aidé à trouver la réponse.)• <u>Orthographe : jour de la dictée !</u> <u>Dictes les phrases suivantes à votre enfant</u> <p>Le froid <u>arrive</u> et, avec lui, le manque de nourriture. Nous <u>cueillons</u> tout : les <u>baies</u> dans les <u>buissons</u>, les <u>fruits</u> dans les <u>arbres</u>, nous <u>ramassons</u> les <u>graines</u>, les <u>racines</u>... Maintenant, les <u>feuilles</u> <u>tombent</u>... Bientôt, la nature n'aura plus rien à nous offrir.</p>
MATHS	<ul style="list-style-type: none">• Fiche (mesure : la monnaie) Rappel https://lesfondamentaux.reseau-canope.fr/discipline/mathematiques/grandeurs-et-mesures/la-monnaie/calculer-une-somme-dargent.html• Pour ceux qui souhaiteraient s'exercer en ligne : https://www.logicieleducatif.fr/math/calcul/eurobillets.php
ANGLAIS	<ul style="list-style-type: none">• A écouter (se présenter « the hello song ») https://www.youtube.com/watch?v=To_eXsapXCA

LECTURE DEVINETTES 4

1/ « Bonjour madame, que désirez-vous ? - du sirop pour la toux et des pastilles pour la gorge, s'il vous plait. »

Qui pose la question?

.....

2/ Mme Péreau invite les élèves à venir enfiler des tabliers. Sur la table, il y a des feuilles, des pots et des pinceaux.

Que vont faire les élèves?

.....

3/ Manon referme le rideau derrière elle. Avant de régler la bonne température, elle vérifie qu'elle pourra bien attraper le savon. Elle ne traîne pas, son frère attend déjà derrière la porte.

Que va faire Manon ?

.....

4/ « Bonjour, je voudrais un billet avec réservation pour Dijon, le 5 novembre. - Départ paris gare de Lyon à 12h23, arrivée Dijon à 14h00, place 42 voiture 5. Cela fera 35€ s'il vous plait. »

Où se passe cette scène ?

.....

Mathématiques

Fiche

RAPPEL :

La monnaie : les billets



La monnaie : les pièces



10 fois 10 centimes , c'est 1 €

1 € = 100 centimes








=



Mesure : La monnaie

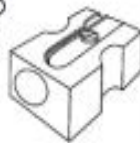
1 **Dessine** les pièces dont tu as besoin pour payer tes achats :

2 **Résous** ces exercices :

Julie a 1 €. Elle souhaite acheter une gomme à 30 c et un taille-crayon à 55 c.

Peut-elle faire ses achats ?



Kévin a 100 centimes. Il veut acheter un double centimètre qui coûte 1 € 35.

A-t-il assez d'argent ?

