

PLAN DE TRAVAIL CP

MARDI 31 MARS - **CORRECTION**

Grammaire

Fiche

1/ Complète chaque phrase avec un des verbes proposés.

Ines, Jannah et Youcef regardent un dessin animé au cinéma.

Camélia souffle pour faire des bulles de savon.

Ilyès, Naël et Lamis glissent sur le toboggan.

Hadda offre un cadeau à Céline.

Elia peint un beau dessin.

2/ Souligne le verbe dans chaque phrase (rappel : le verbe indique l'action, ce que fait le personnage).

✓ Marion dessine des arbres.

✓ Le gros chien aboie fort.

✓ Ma petite sœur pleure.

✓ Le garagiste a réparé ma voiture.

✓ Mes amis chantent bien.

✓ La maîtresse travaille sur son ordinateur.

✓ Les élèves lisent leur livre.

✓ La directrice écrit aux parents.

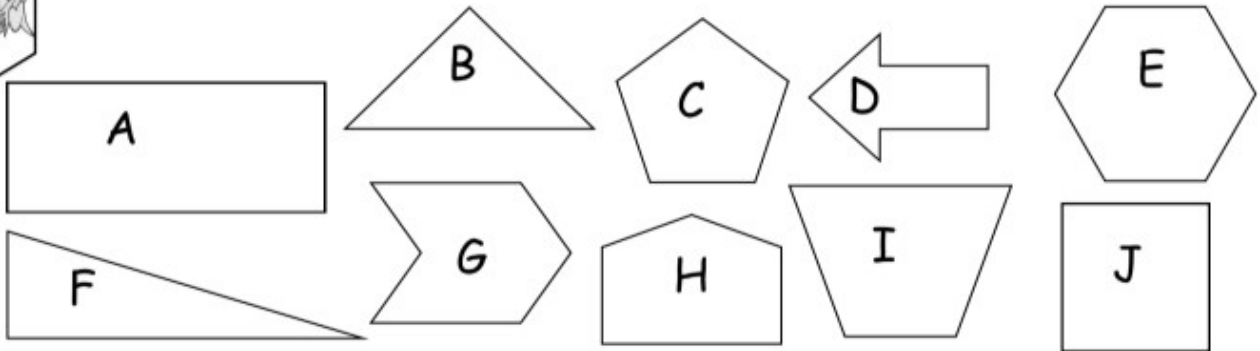
✓ Mes cousins cuisinent.

✓ En ce moment, nous restons à la maison.

Mathématiques

Fiche - Géométrie

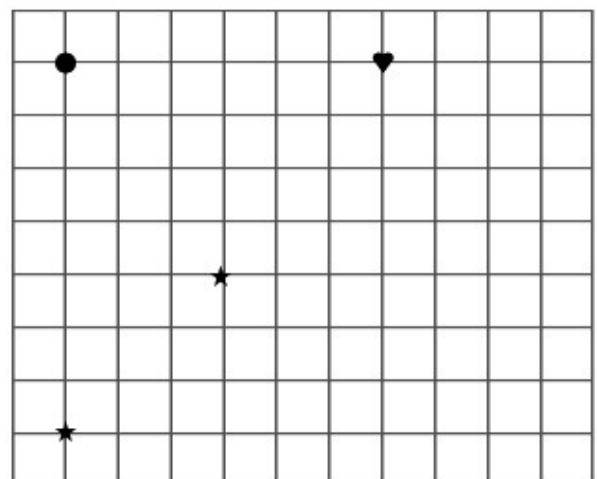
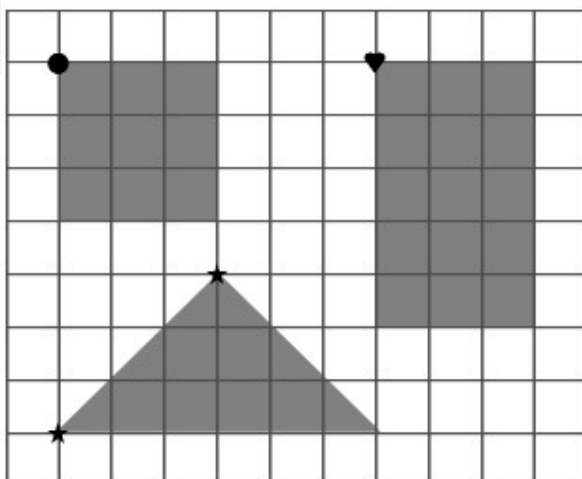
1 Compte le nombre de côtés de chaque figure et range-les dans le tableau.



3 côtés	4 côtés	5 cotés	6 côtés
<input type="checkbox"/> <input type="checkbox"/>	<input checked="" type="checkbox"/> A <input type="checkbox"/> <input type="checkbox"/>	<input type="checkbox"/> <input type="checkbox"/>	<input type="checkbox"/> <input type="checkbox"/>

3 côtés	4 côtés	5 côtés	6 côtés
F - B	A - I - J	C - H	G - E

2 Reproduis les figures comme celles du modèle.



3/ Pour chaque figure, compte le nombre de carrés et de triangles.

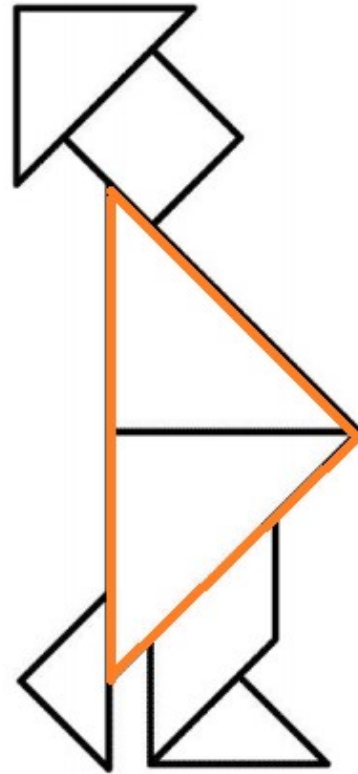
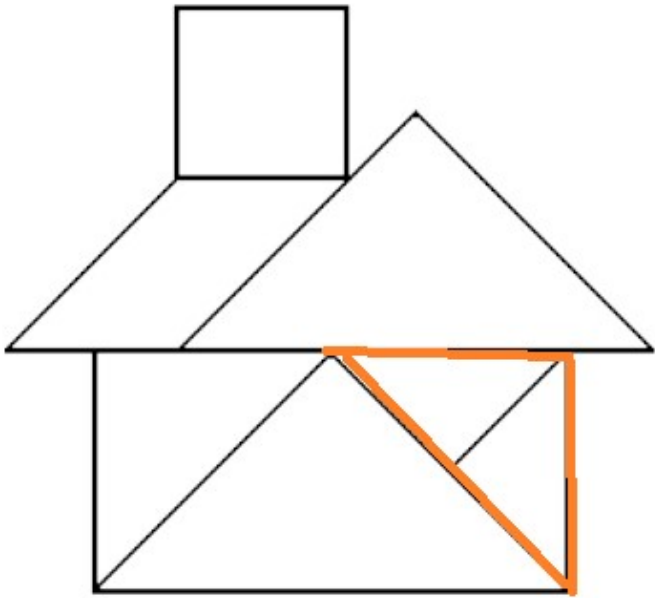


FIGURE 1 (la maison)

- 1 carré
- 5 triangles + 1 triangle (orange) tracé à partir de 2 triangles assemblés

FIGURE 2 (le bonhomme)

- 1 carré
- 5 triangles + 1 triangle (orange) tracé à partir de 2 triangles assemblés