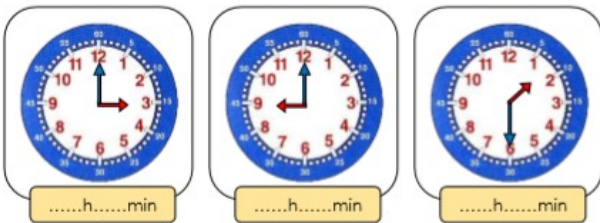


PLAN DE TRAVAIL CE2

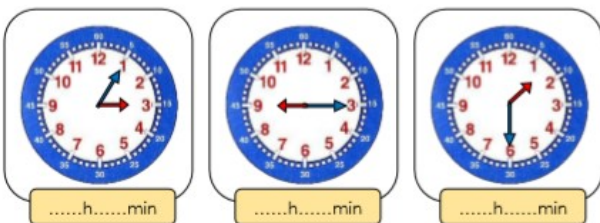
VENDREDI 27 MARS - CORRECTION

MATHEMATIQUES

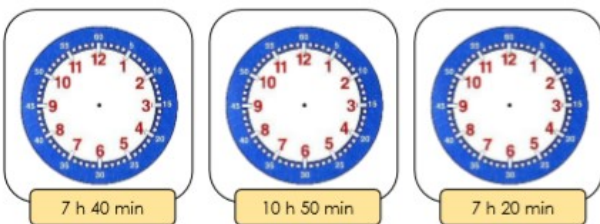
1 Indique l'heure. C'est le matin.



2 Indique l'heure. C'est l'après-midi.

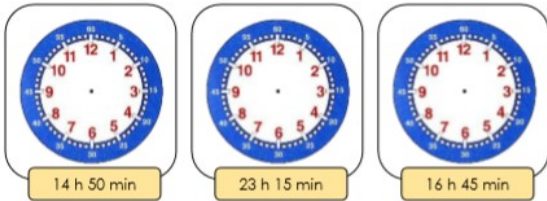


3 Lis l'heure indiquée et place les aiguilles.



3h00min	9h00min	1h30min
15h05min	21h15min	13h30 min

4 Lis l'heure indiquée et place les aiguilles.



5 Indique l'heure. C'est le matin.



6 Indique l'heure. C'est l'après-midi.



3h15min	11h15min	1h15 min
21h15min	8h15min	6h15min

LECTURE DEVINETTES 1

1/ Maman installe bébé dans son petit **siège** à l'arrière. Elle s'assied à l'avant et attache sa **ceinture de sécurité**. Elle **démarre**.

Où est Maman ? **Maman est dans la voiture.**

2/ Ce matin, tout le monde cherche notre chat qui a disparu. Soudain, ma sœur, debout devant la porte de la maison, entend un miaulement semblant venir du ciel. Papa a compris, il a déjà posé **l'échelle contre le mur de la maison** pour grimper tout là-haut sur les **tuiles**.

Où le chat s'est-il réfugié ? **Le chat s'est réfugié sur le toit.**

3/ Marylou **lave son bol** et demande à sa maman s'il est l'heure de partir à l'école.

Dans quelle pièce de la maison est Marylou ? **Marylou est dans la cuisine.**

4/ Julien a réussi à grimper en s'accrochant à **l'écorce** rugueuse. Il est déjà à deux mètres du sol. Il essaie maintenant d'attraper la première **branche**.

Où Julien est-il monté ? **Julien est monté sur le tronc d'un arbre .**